

展城館 CITY GALLERY

高級組工作紙



1. 你對香港和世界其他城市有多少認識呢？

a. 請比較以下城市的土地面積，將 1 至 5 填寫在空格內（1 代表最大，5 代表最小）：

香港

倫敦

新加坡

聖保羅

巴黎



b. 請比較以下大廈的高度，將 1 至 5 填寫在空格內（1 代表最高，5 代表最矮）：

香港
環球貿易廣場上海
環球金融中心紐約
帝國大廈巴黎
蒙帕納斯大廈東京
中城塔

c. 請比較以下城市的人口密度，將 1 至 5 填寫在空格內（1 代表最高，5 代表最低）：

香港

墨西哥城

北京

開羅

孟買



請細心觀看「主題放映」的片段：

2. 與內地的區域協作是我們其中一個規劃方向，請在橫線填上適當的答案：

為確保香港作為「亞洲國際都會」的地位，多個與內地聯繫的發展計劃展開，包括：

_____、廣深港高速鐵路、蓮塘／香園圍口岸及落馬洲河套區發展，讓香港和_____地區有更緊密的合作和融合。

3. 展望未來，政府現正展開或即將實行以下哪些有關規劃及基建的建議或大型計劃？

- | | |
|---|---|
| i. 新市鎮發展 | v. 港珠澳大橋相關工程 |
| ii. 淨化海港計劃 | vi. 更新活化舊區 |
| iii. 起動九龍東 | vii. 西九文化區 |
| iv. 填海工程 | viii. 增加跨境建設 |
| A. (i)和(iii) | B. (ii), (iv)和(vi) |
| C. (ii), (iii), (v), (vi), (vii)和(viii) | D. (iii), (iv), (v), (vi), (vii)和(viii) |

規劃過程

4. 以下哪項是規劃工作的相關內容？

- | | |
|--|-------------------------------------|
| i. 改善生活和工作環境。 | |
| ii. 引導和管制土地的發展和用途。 | |
| iii. 執行契約條款。 | |
| iv. 促進社區的衛生、安全、便利和一切福祉。 | |
| v. 與各政府部門、內地相關規劃機構、管理局和委員會於不同規劃階段一起工作。 | |
| vi. 執行發展局有關規劃的政策方針。 | |
| vii. 制定、監察及檢討規劃政策，和處理全港土地用途事務。 | |
| A. (i), (iii)和(v) | B. (ii), (iv)和(vi) |
| C. (iii), (iv), (v), 和(vii) | D. (i), (ii), (iv), (v), (vi)和(vii) |

2/F 策略宏圖

5. 政府制定規劃策略需要市民參與，以下哪項是「可供選擇的規劃」中所提及有關「分散發展模式」的優點？

- i. 建設「門廊市鎮」有助整頓環境惡化的鄉郊地區。
- ii. 需較早投入公共資源。
- iii. 為都會區提供較低密度發展的機會。
- iv. 新發展區的密度、設計或建築形式均較多元化，令興建環保設施更富彈性。
- v. 隨著三個新發展區的人口增長，新界北的基礎設施得以提早興建。
- vi. 減少開拓新發展區的預支成本。

- A. (i)和(iv) B. (ii), (v)和(vi)
C. (i), (iii), (iv), 和(v) D. (iii), (iv), (v), 和(vi)

6. 為鞏固香港作為「亞洲國際都會」的地位，策略發展委員會提出下列哪些建議項目？

- i. 加強與內地的聯繫
- ii. 增強競爭力
- iii. 提升生活質素
- iv. 確立特色和形象
- v. 緩和人口老化問題

- A. (i)和(iii) B. (ii)和(iv)
C. (i), (ii), (iii), 和(iv) D. (ii), (iii), (iv)和(v)

7. 於繁忙鬧市進行地下基建設施維修或改善工程時，需要考慮甚麼因素？及有甚麼解決方法可供採用？

- i. 移土法
- ii. 地區歷史及文化傳統的影響
- iii. 喉管爆破法
- iv. 市民經濟負擔能力
- v. 定向鑽挖法
- vi. 建築物密度

- A. (i), (iii)和(v) B. (ii), (iv)和(vi)
C. (iii), (iv), (v)和(vi) D. (i), (ii), (iii), (v), 和(vi)

你對香港的交通及運輸有多少認識？

8. 香港的道路網絡長達多少公里？

- A. 1,000 多公里
- B. 2,000 多公里
- C. 2,500 多公里
- D. 4,000 多公里

9. 葵青貨櫃碼頭每年可處理多少貨櫃？

- A. 超過 500 萬個
- B. 超過 1,000 萬個
- C. 超過 1,300 萬個
- D. 超過 1,500 萬個

10. 香港四大經濟支柱產業包括：

- i. 金融服務
- ii. 貿易及物流
- iii. 製造業
- iv. 旅遊
- v. 商業支援及專業服務
- vi. 漁農業

- A. (i), (iii), (iv) 和 (v)
- B. (i), (ii), (iv) 和 (v)
- C. (i), (ii), (v) 和 (vi)
- D. (i), (iv), (v) 和 (vi)



交通及運輸

11. 為加強與內地聯繫，政府已展開港珠澳大橋相關工程，請瞭解該大橋工程的特別之處及所帶來的好處，並在下面的橫線填上適當的答案：

港珠澳大橋由_____行車道組成，將會是世界上最長的_____。

大橋的建築工程首次採用_____填海方法，有助保護海洋生態。大橋開通後，將

會為香港的_____、金融、_____、商業和_____帶來持久的動力。

你對「綠色香港」有多少認識？

12. 請將正確的答案填寫在橫線上：

綠化總綱圖是透過研究地區的特色和大眾期望，為地區訂定整體_____，並為_____、_____和_____有關工程提供指引。除顯示建議的種植地點外，綠化總綱圖亦會_____，及_____。

13. 政府採取甚麼措施改善本港固體廢物的處理？

- i. 設立環保園，為環保及循環再造業提供長期用地。
 - ii. 採用先進的廢物處理設施，包括三個策略性堆填區及廢物轉運站網絡。
 - iii. 建立多元化的清潔能源生產和供應系統。
 - iv. 推出「工商業廢物源頭分類計劃」，讓業戶或租戶於工作場所輕鬆參與廢物回收。
- A. (i), (ii) 和 (iii) B. (i), (ii) 和 (iv)
C. (i), (iii) 和 (iv) D. (ii), (iii) 和 (iv)


1/F 生活環境

城市設計是一種為人們設計環境的藝術，是市區規劃的一項重要元素。


14. 請選出下列標準與準則屬於哪項城市設計範疇：

- (A) 山脊線 (B) 結集程度／密度 (C) 綠化
(D) 休憩用地／公園 (E) 歷史古蹟 (F) 地方特色

- _____ 保存具歷史意義、建築特色及文化價值的建築物，使香港的文化和歷史得以流傳。
- _____ 保留和鞏固獨特的文化風貌和地方特色。
- _____ 加強空間的視覺連繫，可有助引導行人前往相關設施。
- _____ 鼓勵採用不同高度的建築物，增加該地區視覺上的趣味性。
- _____ 擴大植物的覆蓋範圍，有助降低溫度，增強視覺景象。
- _____ 保留觀景廊，讓行人觀賞海旁景致或山巒背景。



15. 請詳述下圖建築物的排列和設計特色，如何改善空氣流通的情況：



A. _____



B. _____

16. 政府在落實文物保育政策時需要考慮甚麼因素？


- i. 尊重私有產權
- ii. 公眾利益的發展需要
- iii. 跨界別合作
- iv. 持份者和社會大眾的積極參與
- v. 財政考慮

- A. (i)和(ii) B. (ii), (iii)和(v)
C. (ii), (iii), (iv)和(v) D. 以上皆是

17. 「圍村」是香港具有高歷史價值的建築物之一，請在「文物議事廳」內觀賞有關專家和學者對圍村保育價值的討論片段，並選出以下各項屬於哪種保育價值的考慮：

- (A) 歷史價值 (B) 建築價值 (C) 組合價值
(D) 社會價值和地區價值 (E) 保持原貌程度

- _____ 四面圍牆及炮樓
- _____ 圍牆、廟宇、祠堂及街道佈局
- _____ 大事慶典場地
- _____ 嶺南疏式村落佈局
- _____ 新界歷史發展



 中環愛丁堡廣場 3 號

 (852) 3102 1242

 (852) 3104 0129

 enquiry@citygallery.gov.hk

 www.citygallery.gov.hk

恭喜您！您已成功完成是次挑戰！並將會得到紀念品乙份，以作鼓勵！請將這個展覽推介給您的家人及朋友吧！
期待您再次蒞臨參觀！謝謝！！

級別：_____ 姓名：_____

學校：_____ 參觀日期：_____

